

中 2023

(第2回)

社 会

始める前に下の注意事項を読みなさい。

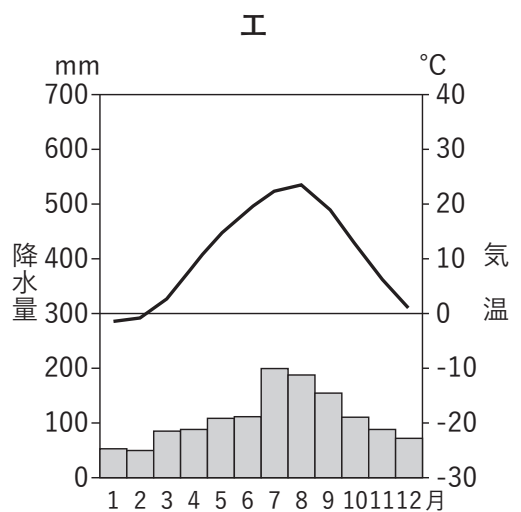
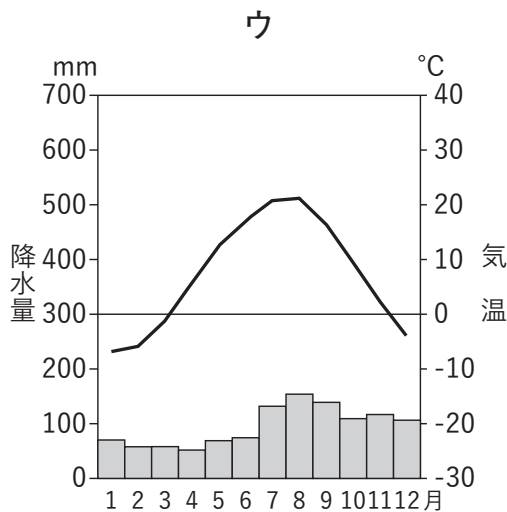
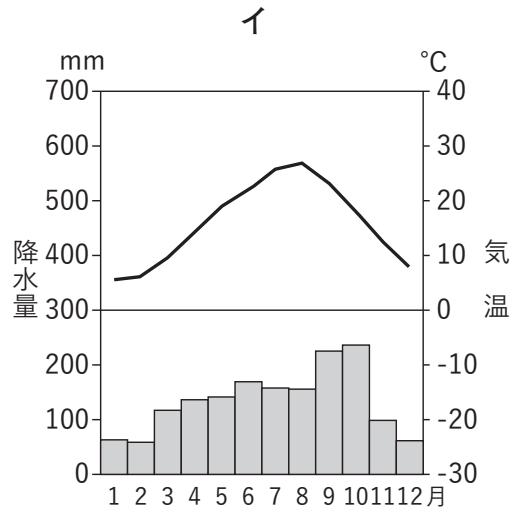
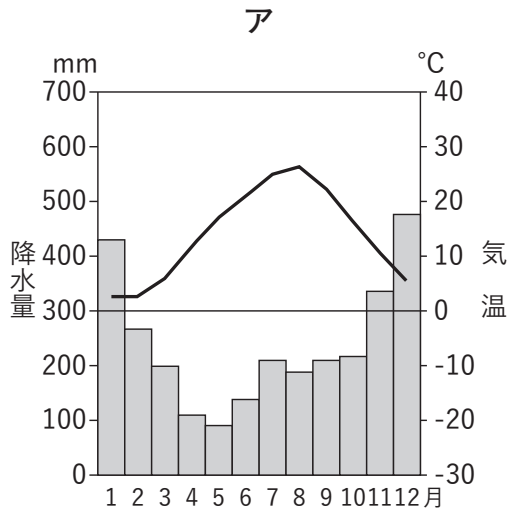
- 始めの合図があるまで開いてはいけません。
- 問題は全部で 19 ページあります。
- 答えはすべて解答用紙に書きなさい。
- 問題冊子、解答用紙のいずれにも受験番号、氏名を書きなさい。
- 質問のあるときは静かに手をあげ先生の指示を待ちなさい。
- 終わりの合図があったら、ただちに筆記用具を置きなさい。
- 問題冊子を持ち帰ってはいけません。

受 験 番 号		ふり がな	
		氏 名	

1 新潟県、富山県に関するあとの問いに答えなさい。

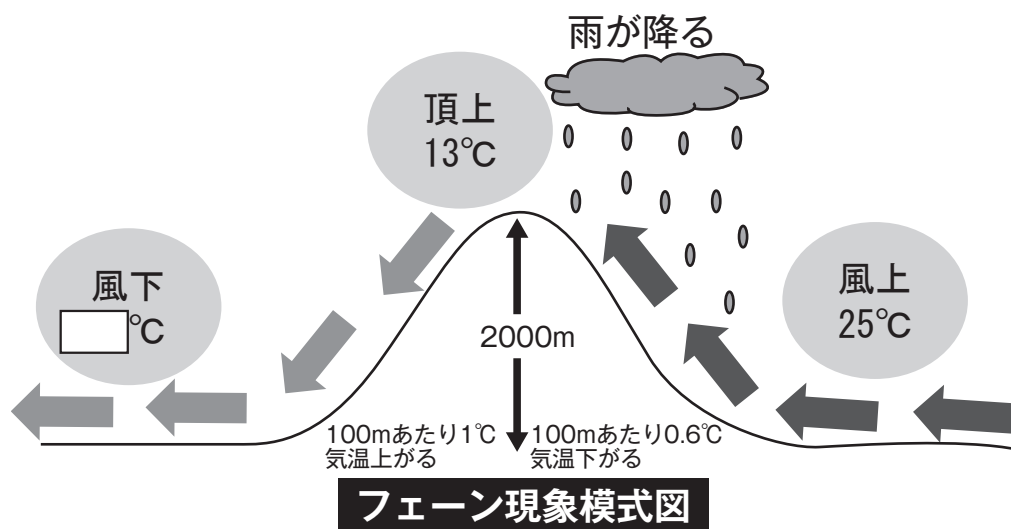


問1 次のア～エは、高田（新潟県）、旭川（北海道）、盛岡（岩手県）、東京の雨温図です。高田の雨温図を次のア～エより1つ選び、記号で答えなさい。



問2 2022年9月6日に三条市では気温が38.8度まで上がりました。これは台風11号の接近によるフェーン現象の影響を受けたからです。北陸地方ではこうしたフェーン現象が起きますが、その模式図が下の図です。下の設定のとき、2000m 下った風下側の気温は何度になりますか。

- ・ 湿潤な空気は、100m 上がるにつれ、気温は0.6度下がる。
- ・ 25℃の空気が2000mの山の頂上で13℃まで低下する。
- ・ 雨を降らせて乾燥した空気は、100m 下がるにつれ、気温が1℃上がる。

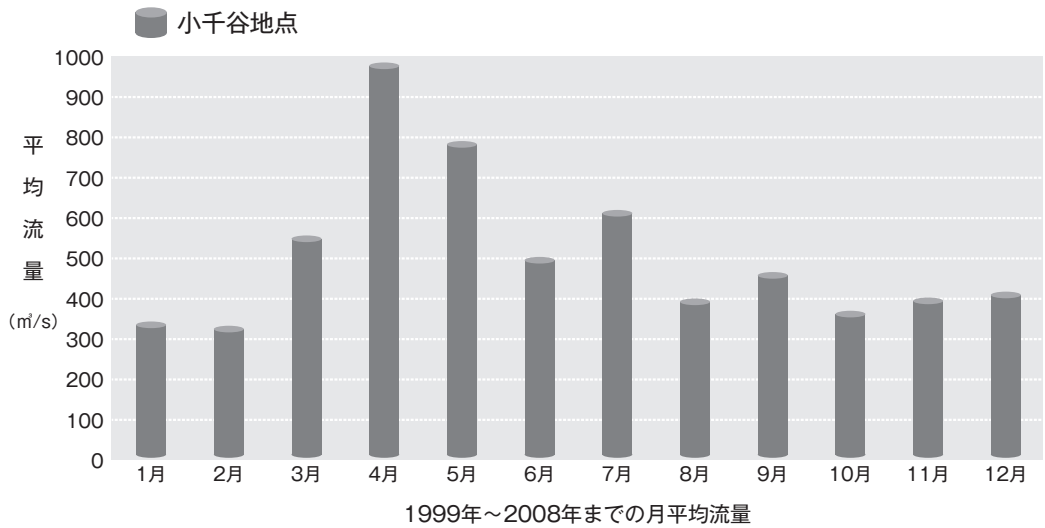


気象庁 HP

問3 地図のA川とB川の組合せとして適当なものを次のア～カより1つ選び、記号で答えなさい。

- | | | | | | |
|---|-------|-------|---|-------|-------|
| ア | A 黒部川 | B 信濃川 | イ | A 黒部川 | B 北上川 |
| ウ | A 北上川 | B 信濃川 | エ | A 北上川 | B 黒部川 |
| オ | A 信濃川 | B 北上川 | カ | A 信濃川 | B 黒部川 |

問4 次のグラフはA川の小千谷地点の月別平均流量図です。A川の月別平均流量が4月に最も多くなるのはなぜですか。10～20文字で簡単に説明しなさい。



国土交通省北陸地方整備局

問5 北陸地方の農地の約9割は水田です。日本の水田稲作に関する次の問いに答えなさい。

(1)下の表は、2021年の米(水稻)の収穫量の上位5道府県です。1位と2位の組合せとして適当なものを次のア～カより1つ選び、記号で答えなさい。

	収穫量(万t)	全国に占める割合(%)
1位	62.0	X
2位	57.4	7.6
3位	50.1	6.6
山形	39.4	5.2
宮城	35.3	4.7

日本国勢図会 2022 / 23

- ア 1位 北海道 2位 新潟
 イ 1位 北海道 2位 富山
 ウ 1位 新潟 2位 北海道
 エ 1位 新潟 2位 富山
 オ 1位 富山 2位 新潟
 カ 1位 富山 2位 北海道

(2)2021年の米の全国の収穫量は756.3万tでした。1位の道府県が全国の収穫量に占める割合(表中X)は何%ですか。小数点第2位を四捨五入して、表と同じように小数点第1位までを答えなさい。

問6 新潟県と富山県は、大正時代から水田稲作の裏作として、ある植物の栽培が広がり、全国有数の生産地となっています。この植物として適当なものを次のア～エより1つ選び記号で答えなさい。

- ア ヒマワリ イ チューリップ
ウ アジサイ エ アサガオ

問7 新潟県^{つば}燕市では、江戸時代に農民の副業としてはじまったものづくりが地場産業へと発展しています。燕市が全国生産の9割以上を占める生産物を次のア～エより1つ選び、記号で答えなさい。

- ア メガネのフレーム イ タオル
ウ ^{しっ}漆器 エ 金属洋食器

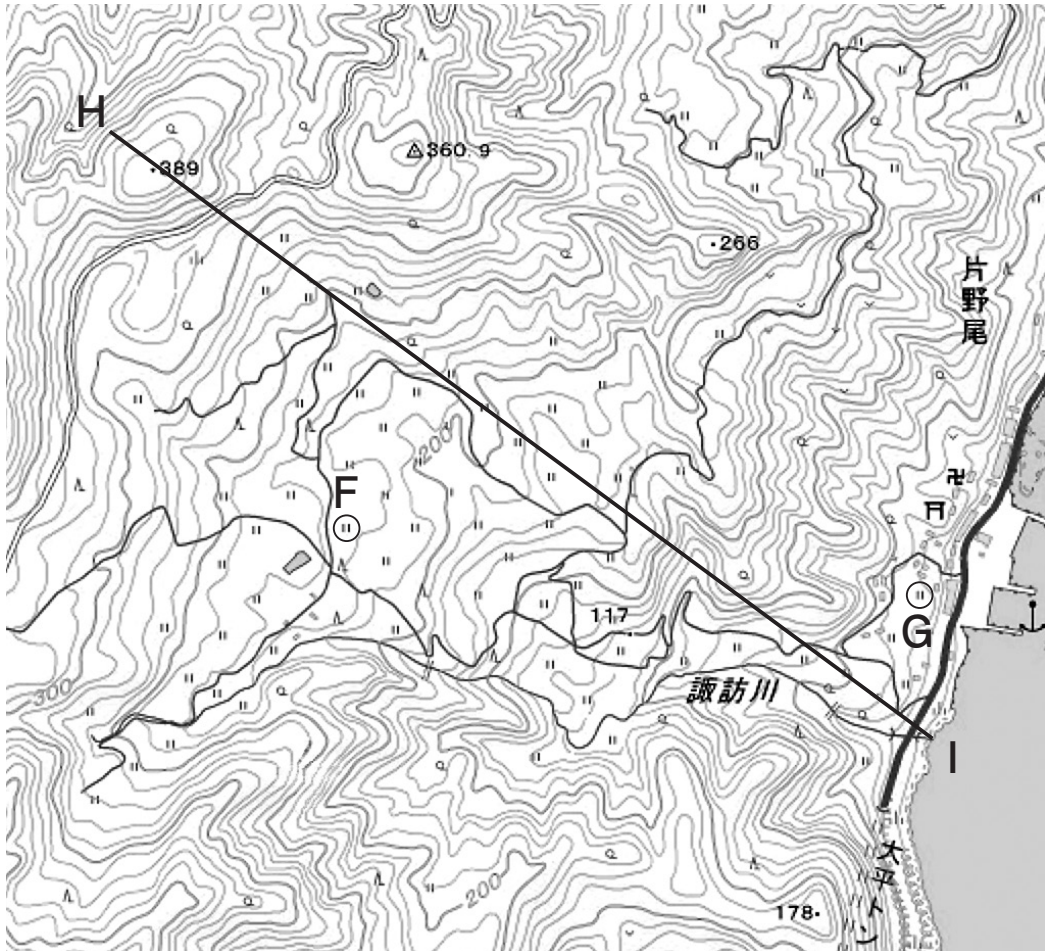
問8 地図のCには、第二次世界大戦後に日本経済が^{ふっ}復興するにつれて不足した電力を発電するための^{しせつ}施設が建設されました。この場所に1956年から1963年にかけて建設された発電施設を次のア～エより1つ選び、記号で答えなさい。

- ア 原子力発電所 イ 水力発電用ダム
ウ 石炭火力発電所 エ メガソーラー (大規模太陽光発電施設)

問9 地図のDの地域にはユネスコの世界遺産に登録された場所があります。世界的な遺産として認められたものを次のア～エより1つ選び、記号で答えなさい。

- ア ^{がっしょう}合掌造り集落 イ ブナの原生林
ウ 銀山 (銀鉱山) 遺跡 エ 明治日本の産業革命遺産

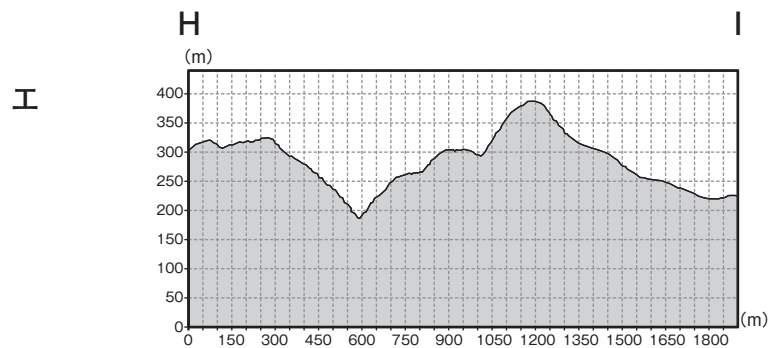
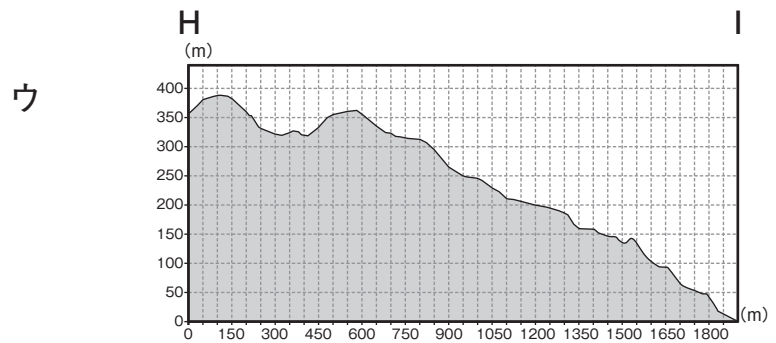
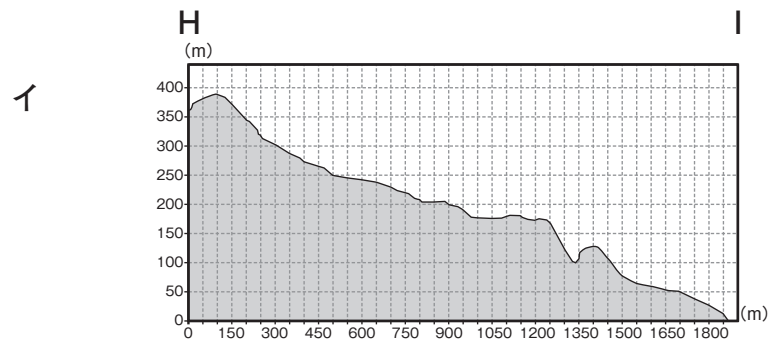
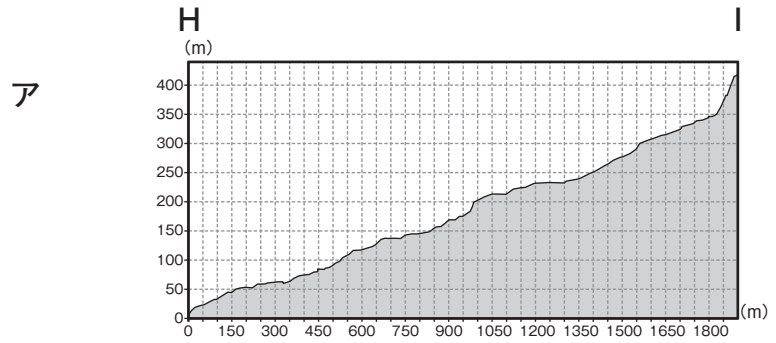
問10 次の地形図は図のE地域の一部であり、山間に階段状の農地が造られています。この農地の主な利用形態と、FとGの農地の標高差の組合せとして適当なものを次のア～エより1つ選び、記号で答えなさい。



国土地理院 地理院地図

	ア	イ	ウ	エ
利用形態	果樹園	果樹園	田	田
F - G 標高差	約 100m	約 200m	約 100m	約 200m

問 11 図の H—I の断面図を次のア～エより 1 つ選び、記号で答えなさい。



国土地理院 地理院地図から作成

2

次の写真と文を読み、あとの問いに答えなさい。



奈良県桜井市の初瀬山の中腹にある長谷寺（写真左）は、686年に道明上人が①天武天皇のために銅板法華説相図を安置したことにはじまり、727年に徳道上人が②聖武天皇の勅願によって十一面観音菩薩をおまつりになりました。平安時代になると多くの女性が「長谷詣」をするようになり、（ ③ ）も長谷寺にこもってお経をとこなたと『枕草子』に書いています。また、『源氏物語』には、玉鬘が長谷寺の「二本の杉」（写真右）で亡くなった母親の侍女と出会うという運命的な話が描かれています。「玉鬘」は室町時代に④能の作品にもなりました。

現在の本堂は⑤徳川家光が金二万両を寄進して、1650年に建立されました。

問1 下線部①の天武天皇が造^{つく}らせた日本最古の貨幣^{かへい}を漢字で答えなさい。

問2 下線部②の聖武天皇がおこなったこととして、誤っているものを次のア～エから1つ選び、記号で答えなさい。

ア 大宝律令^{たいほうりつりょう}をつくり、新しい政治の仕組みを定めた。

イ 全国に国分寺を建ててを命じた。

ウ 東大寺を建て、大仏づくりに取り組んだ。

エ 唐の政治のしくみや文化を取り入れるため、遣唐使を派遣した。

問3 文中の空らん（ ③ ）にあてはまる『枕草子』の作者名を漢字で答えなさい。

問4 下線部④の能を完成した人物を次のア～エの中から1つ選び、記号で答えなさい。

ア 出雲阿国^{いずものおくに}

イ 世阿弥^{ぜあみ}

ウ 雪舟^{せつしゅう}

エ 千利休^{せんりのきゅう}

問5 下線部⑤の徳川家光がおこなったこととして、誤っているものを次のア～エから1つ選び、記号で答えなさい。

ア 天草四郎^{あまくさ}たちが起こした島原・天草一揆^{いっき ちんあつ}を鎮圧した。

イ 大阪城を攻めて豊臣氏^{ほうじん}を滅ぼした。

ウ 大名が領地と江戸を1年おきに行き来する参勤交代^{さんきんこうたい}の制度を定めた。

エ 日本人の海外への渡航^{とこう}と海外からの帰国を禁止した。

問6 次のア～エは、長谷寺にちなんでつくられたと考えられている歌や句で、長谷寺にはそれに関連する記念碑などが建てられています。古い順に並びかえ、記号で答えなさい。

ア こもりくのはつせ泊瀬の山に照る月は満ち欠けしけり人の常なき
作者不明 (『万葉集』)

イ 年も経ぬいのるちぎりははつせ初瀬山尾上の鐘のよその夕暮れ
作者：藤原定家 (『新古今和歌集』)

ウ 春の夜や籠り人ゆかし堂の隅
作者：松尾芭蕉 (『笈の小文』)

エ 人はいさ心も知らずふるさとは花ぞ昔の香ににおいける
作者：紀貫之 (『古今和歌集』)

3

次の新聞記事を読み、あとの問いに答えなさい。

中国人慰霊塔 銅山跡、途絶えた慰霊祭
 国交回復直後、友好願ひ建立

足尾銅山跡(日光市足尾町)の北の外れ。高さ13メートル、6メートル四方の鉄筋コンクリート製の巨塔が、深い山々に抱かれた斜面の空き地に立つ。

「中国人殉難烈士慰霊塔」と前面の御影石に彫られている。①アジア太平洋戦争末期、257人の中国人が家族から引き離され、異境の鉱山で労働を強いられた。1944年10月から1年足らずの間に、通訳1人を含む110人が病気や事故で命を落とした。全ての名が裏面に刻まれている。

敗戦から28年後の73年7月に建てられた。②その前年、今からちょうど50年前の9月29日の日中国交正常化がきっかけだった。

当時の横川信夫知事を名誉会長とする実行委員会が立ち上がった。県広報課を事務局にして寄付を呼びかけ、約2千万円が集まったという。除幕式には中国大使館の代表など約100人が参列した。

(中略)

《痛ましい事実を忘れず、後の戒めとするため、悠久の日中友好の願をこめて、県内各界各層全県民の協力により、ゆかりのこの地に慰霊塔を建立した》

戦時下、多くの中国人はどのようにして県内に連れてこられたのか。どんな状況で労働を強いられたのか。国交正常化から50年。足尾銅山の記憶から戦争を考える。(中村尚徳)

◆キーワード

<足尾銅山> 江戸初期に鉷脈が見つかった国内最大の銅山。③明治期には国内約4割の産銅量を誇った一方、周辺や下流域の住民が鉷毒や煙害に苦しみ、複数の村が廃村になった。衆議院議員だった(④)が明治天皇に直訴を試みた事件でも知られる。鉷脈を掘り尽くして生産が減り、⑤1973年2月に閉山した。

(朝日新聞栃木版 2022年10月5日)

問1 下線部①のアジア太平洋戦争について、次のア～エの出来事を古い順に並びかえ、記号で答えなさい。

- ア アメリカ軍が沖縄島に上陸し、地上戦がおこなわれた。
- イ 20歳以上の文系大学生を徴兵する学徒出陣が始まった。
- ウ 日本軍がイギリス領のマレー半島に上陸した。
- エ ミッドウェー海戦で日本軍が敗北した。

問2 下線部②の時に発表されたものとして適当なものを次のア～オから1つ選び、記号で答えなさい。

- ア 日中基本条約
- イ 日中共同宣言
- ウ 日中共同声明
- エ 日中平和友好条約
- オ 日華平和条約

問3 下線部③に関連して、明治期に足尾銅山を経営していた古河市兵衛^{ふるかわいち べ}は、政治家の陸奥宗光^{む つ むねみつ}の子どもを養子^{ようし}として古河鋳業^{こうぎよう}の二代目としました。陸奥宗光がおこなったこととして適当なものを次のア～エから1つ選び、記号で答えなさい。

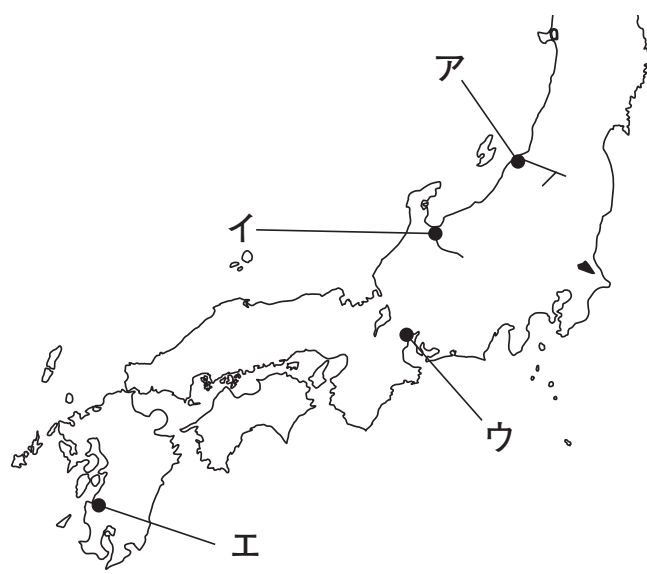
- ア アメリカと条約改正交渉^{こうしやう}をするために使節団^{し せつだん}を派遣^{はけん}した。
- イ イギリスと交渉して治外法権^{てっばい}を撤廃^{てつぱい}させた。
- ウ 日本が西洋化したことを示^{しめ}すために鹿鳴館^{ろくめいかん}を建てた。
- エ 関税自主権^{かくりつ}を確立^{かくりつ}し、条約改正^{じつげん}を実現^{じつげん}させた。

問4 新聞記事中の空らん（ ④ ）にあてはまる人物名を漢字で答えなさい。

問5 下線部⑤の1973年に起きた出来事として適当なものを次のア～エから1つ選び、記号で答えなさい。

- ア 石油危機^{きき}がおこり、日本経済^{だげき}は大打撃^{だげき}を受けた。
- イ イラクがクウェートに侵攻^{しんこう}し、湾岸戦争^{わんがん}が起きた。
- ウ 東京オリンピックが開かれた。
- エ ビキニ環礁^{かんしやう}での水爆実験^{すいばくじつげん}により第五福竜丸^{ふくりゅうまる}が被爆^{ひばく}した。

問6 足尾銅山鉍毒問題は日本で最初の公害問題だと言われています。高度経済成長期には人々の健康や命をおびやかす公害の問題が日本各地で起こりました。鉍山からのカドミウムが原因でイタイイタイ病が発生した地域として正しいものを下の地図中のア～エから1つ選び、記号で答えなさい。



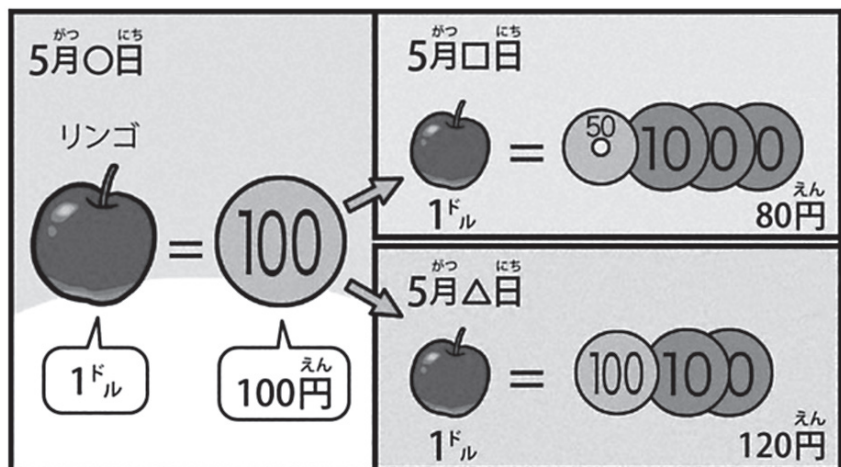
4 次の文を読み、あとの問いに答えなさい。

Q 最近よく聞く「円安」って何なんですか？ 「円高」もあるんですか？
(読者)

通貨交換の比率でモノの値段も左右

A 世界にはアメリカのドルやヨーロッパ連合 (EU) の (1) など、さまざまなお金(通貨)があります。例えばアメリカで買物をするときは、円ではなくドルで支払います。このため円とドルを交換しておく必要があります。

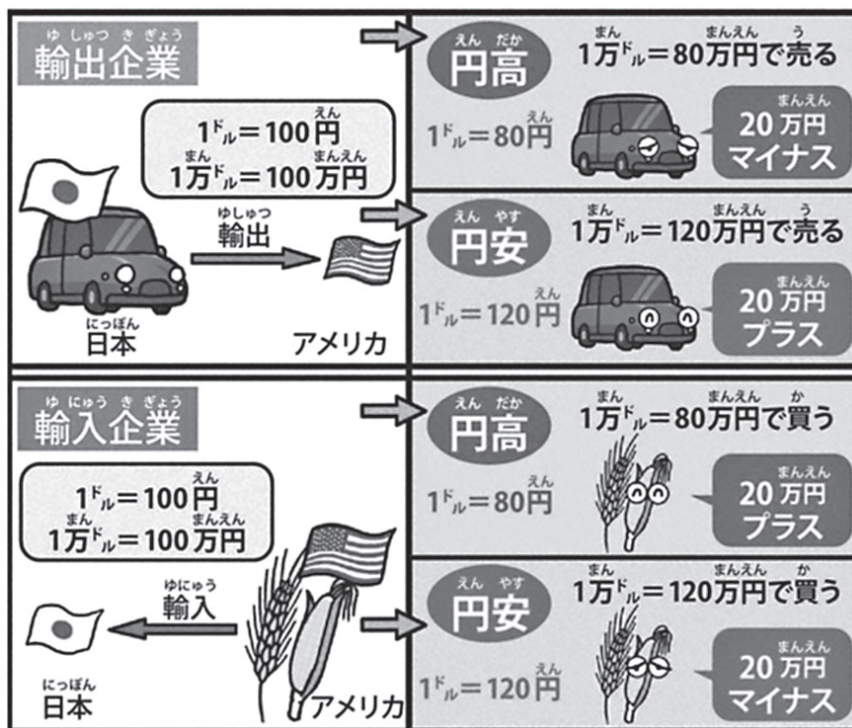
このように円とほかの国の通貨を交換するときの交換比率を、外国為替相場といいます。比率が上がることを円高、下がることを円安といいます。例えば1ドル=100円だったのが、1ドル=120円になると (a)、1ドル=80円になると (b) といいます。高い低いが逆のように思えますが、絵のように、1ドルのリンゴを何円で買えるか、と考えれば分かりやすくなります。



ちなみにニュースなどで円高、円安という場合、世界の通貨の基準きじゆんになっているアメリカのドルたいに対する相場そうばで使われることが多いです。

外国為替相場は、いつも決まっているわけではありません。お金の価値たへんかは絶えず変化いっばんてきします。一般的に通貨の価値は、その国の経済力けいざいりよくを背景はいけいにしていて、経済力が強いときは、その国の通貨をほしい人が増ふえて（ c ）なり、弱よわくなると売りたい人が増ふえて（ d ）なります。景気けいきの良い悪いなど、その国の経済じようきようの状況によって大きく変わります。

また、その通貨がどれだけ世の中でまわに出回かちっているかも価値にかかわります。その国の経済の大きさに比くらべて、たくさんあると価値は（ e ）、少ないと（ f ）ます。さらに相場そうばの上下じようげに合わせて通貨を売り買いし、もうけようとする人がいるので、価値はますます細かく変化します。



外国為替相場の動きは、私たちの暮しと深くつながっています。(a)
になると海外から輸入するモノが割高になります。日本の場合、食料や
資源の多くを海外から輸入しているため、身近な食料品や製品の値段が
上がりやすくなります。これらを扱う会社は、買う人が減ったり、利益
を削って本当は値上げしたい分を補ったりして経営に影響があります。
一方で、(a) は日本で作ったモノが海外で売ると割安になるため、
海外でモノが売れやすくなり、輸出をする会社はもうかります。自動車
製造会社などが代表的です。(b) の場合は、これらとは逆の現象が
起りやすくなります。日本では近年、(a) にする政策がとられてき
ました。

4月28日に円は一時、1ドル=131円台になりました。3月上旬まで
は1ドル=115円前後でした。約20年ぶりの大幅な(a) です。背
景には、日本よりアメリカの方が、お金を預けたり貸したりしたときに
つく利子(金利)が良くなるとみられ、円を売ってドルを買う人が増え
たことがあります。また、日本の経済力が以前より弱くなったこともあ
るとみられています。

日本のお金の流れなどを管理する(2) のトップ、黒田東彦総
裁は「(a) は日本経済にとって全体としてプラス」としながらも、
今の急激な(a) は「マイナスに作用する」と話しています。お金
を扱う国の役所である(3) の鈴木俊一大臣は「悪い(a)」
と表現し、モノの値段がどんどん上がって、国民の生活が苦しくなるこ
とを心配しています。

【長岡平助】 <え・内山大助>

(毎日小学生新聞 2022年5月16日)

問1 (1) に入る通貨を答えなさい。

問2 文中の (a) ~ (f) にあてはまる語句の組み合わせを次のア~オから1つ選び、記号で答えなさい。

- | | | | | | | |
|---|-----|-----|-----|-----|------|------|
| ア | a円安 | b円高 | c安く | d高く | e上がり | f下がり |
| イ | a円高 | b円安 | c高く | d安く | e下がり | f上がり |
| ウ | a円安 | b円高 | c高く | d安く | e下がり | f上がり |
| エ | a円高 | b円安 | c高く | d安く | e上がり | f下がり |
| オ | a円安 | b円高 | c安く | d高く | e下がり | f上がり |

問3 文中の下線について、通貨が出回りすぎて物価が上がることをなんというか、カタカナで答えなさい。

問4 (2) に入る語句を漢字4文字で答えなさい。

問5 (3) に入る語句を次のア~オから1つ選び、記号で答えなさい。

- ア 経済産業省
- イ 通商産業省
- ウ 大蔵省
- エ 財務省
- オ 金融庁

問6 昨年は小麦を原料とする食品が値上がりしましたが、がいこくかわせそうば外国為替相場の動き以外に考えられる理由を一つ、句読点を含め、20から30文字で説明しなさい。