

②2019

(第3回)

社 会

始める前に下の注意事項を読みなさい。

- 始めの合図があるまで開いてはいけません。
- 問題は全部で 17 ページあります。
- 答えはすべて解答用紙に書きなさい。
- 問題冊子、解答用紙のいずれにも受験番号、氏名を書きなさい。
- 質問のあるときは静かに手をあげ先生の指示を待ちなさい。
- 終わりの合図があったら、ただちに筆記用具を置きなさい。
- 問題冊子を持ち帰ってはいけません。

受 験 番 号		ふり がな	
		氏 名	

1

次の文章を読み、あとの問いに答えなさい。

(天声人語) 古代の桃

歴史をさかのぼると、果物の分布と宗教には、意外と深い関係があるらしい。例えば柑橘類のシトロンは、ユダヤ教で豊作を感謝する祭りに欠かせない。ラスロー著『柑橘類の文化誌』によると、①離散状態になったユダヤ民族に付きそうように、地中海へと広がった▼酒づくりに適したブドウの栽培は、西欧で②キリスト教とともに拡大した。教会のミサで③ワインが必要だったからだ。宗教的な動機がなかりせば、世界の食文化は今と違っていたかもしれない▼そう思うと、この古代の桃のニュースも興味をそそる。④奈良県で大量に出土した桃の種が、⑤西暦 135 ～ 230 年のものと推定された▼中国から渡ってきた桃は、⑥魔よけの呪力があると考えられていた。1カ所に大量にあるということは祭祀用か。年代でいうと、(あ)の卑弥呼が君臨した頃と重なる。もしこの地で卑弥呼が使ったとすれば、どんなふうか。果実は民衆と分かち合ったか。想像がふくらむ▼桃といえ、⑦8世紀に成立した「(い)」にも逸話がある。イザナギノミコトが黄泉の国から逃げ帰るとき、桃の実を打ちつけて、追っ手を退治した。ユーモラスだと思っていたが、呪いの力があるなら合点がいく。イザナギがその後、苦しむ人たちを助けよと桃に命じたのは、栽培拡大の暗喩だろうか▼いまある果物は、長年の品種改良や栽培努力のたまものである。しかし、はるか昔には宗教や呪術の役割があった。そう考えてみると、少しありがたみが増すような。

(朝日新聞 2018年5月17日)

問1 下線部①のユダヤ民族に関連した、以下の問いに答えなさい。

(1) 第二次世界大戦中にユダヤ人の^{はくがい}迫害を命じた国家社会主義ドイツ労働者党（ナチス）の指導者の名前をカタカナで答えなさい。

(2) 第二次世界大戦中にリトアニアの日本領事館でユダヤ人のためにビザ^{さしやう}（査証）を発行した外交官の名前を次のア～オから1つ選び、記号で答えなさい。

ア ^{いぬかいつよし} 犬養毅	イ ^{きたさとしばさぶろう} 北里柴三郎	ウ ^{すぎはら ちうね} 杉原千畝
エ ^{とうじょうひで き} 東条英機	オ ^{よし だしげる} 吉田 茂	

問2 下線部②のキリスト教に関連した、以下の問いに答えなさい。

(1) キリスト教を保護した人物としてふさわしいものを次のア～エから1人選び、記号で答えなさい。

ア 足利義満	イ 織田信長
ウ 徳川家光	エ 豊臣秀吉

(2) 岩倉使節団についてアメリカに渡り、^{りゅうがく}留学中にキリスト教を信じるようになって^{せんれい}洗礼を受け、帰国後学校を開いて女性の英語教育に力を^{そそ}注いだ人物を次のア～エから1人選び、記号で答えなさい。

ア ^{ひ ぐちいちよう} 樋口一葉	イ ^{つ だうめ こ} 津田梅子
ウ ^{ひらつか} 平塚らいてう	エ ^{よ さ の あき こ} 与謝野晶子

問3 下線部③のワインは、室町時代後期にスペインやポルトガルから日本に伝わりました。当時おこなわれていたこのスペインやポルトガルとの貿易を何と言いますか。漢字4字で答えなさい。

問4 下線部④の奈良県の文化財の写真として適当でないものを次のア～エから1つ選び、記号で答えなさい。

ア



イ



ウ



エ



問5 下線部⑤の年代に存在した中国の国名として、適当なものを次のア～オから1つ選び、記号で答えなさい。

ア ^ぎ魏 イ ^{げん}元 ウ ^{ずい}隋 エ ^{そう}宋 オ ^{とう}唐

問6 下線部⑥に関連して、縄文時代に呪術や祭祀さいしがおこなわれる時に使われたと考えられる、右の写真のような人形を何と言いますか。漢字2字で答えなさい。



問7 空らん（ あ ）に入る国名を漢字4字で答えなさい。

問8 下線部⑦に関連して、次のア～エは8世紀の出来事です。古い順に並び変え、記号で答えなさい。

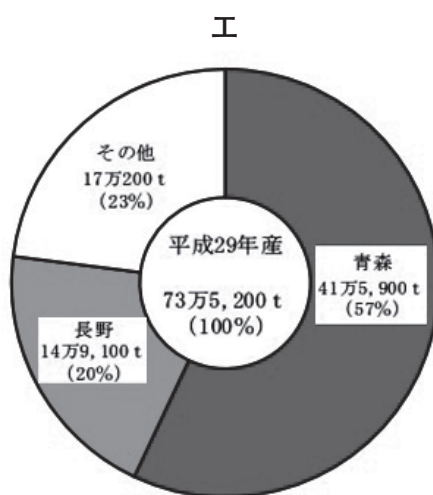
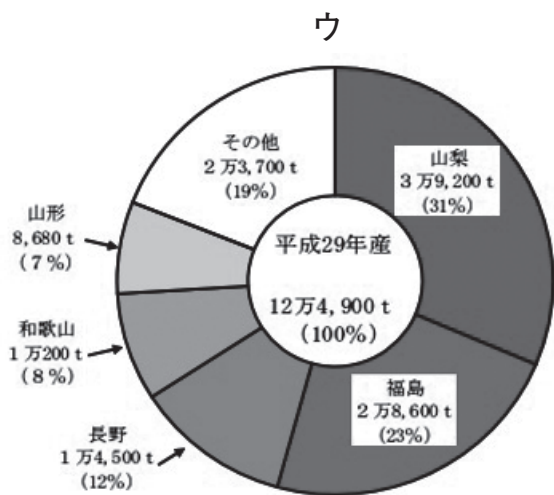
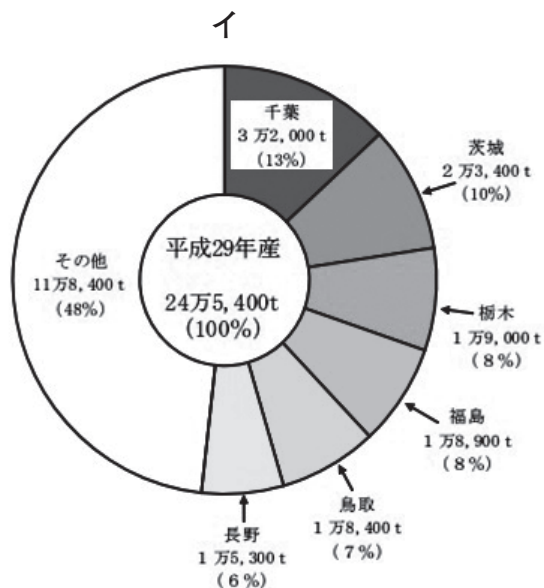
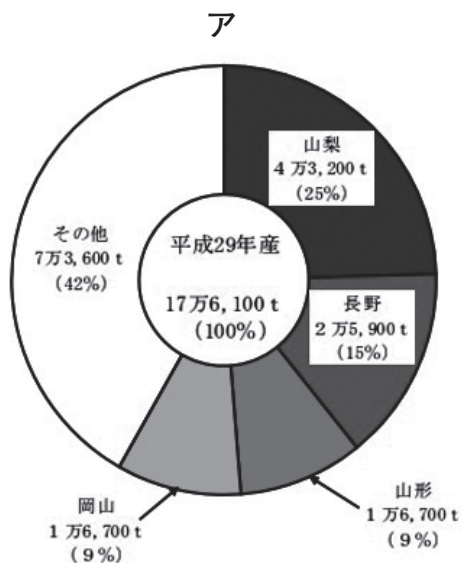
- ア ^{たいほうりつりょう}大宝律令が作られる。
- イ 東大寺の大仏が作られる。
- ウ 平安京に都を移す。
- エ 平城京に都を移す。

問9 空らん（ い ）に入る書名を次のア～エから1つ選び、記号で答えなさい。

ア ^{げんじ}源氏物語 イ ^{こきんわかしゅう}古今和歌集 ウ ^{こじき}古事記 エ 平家物語

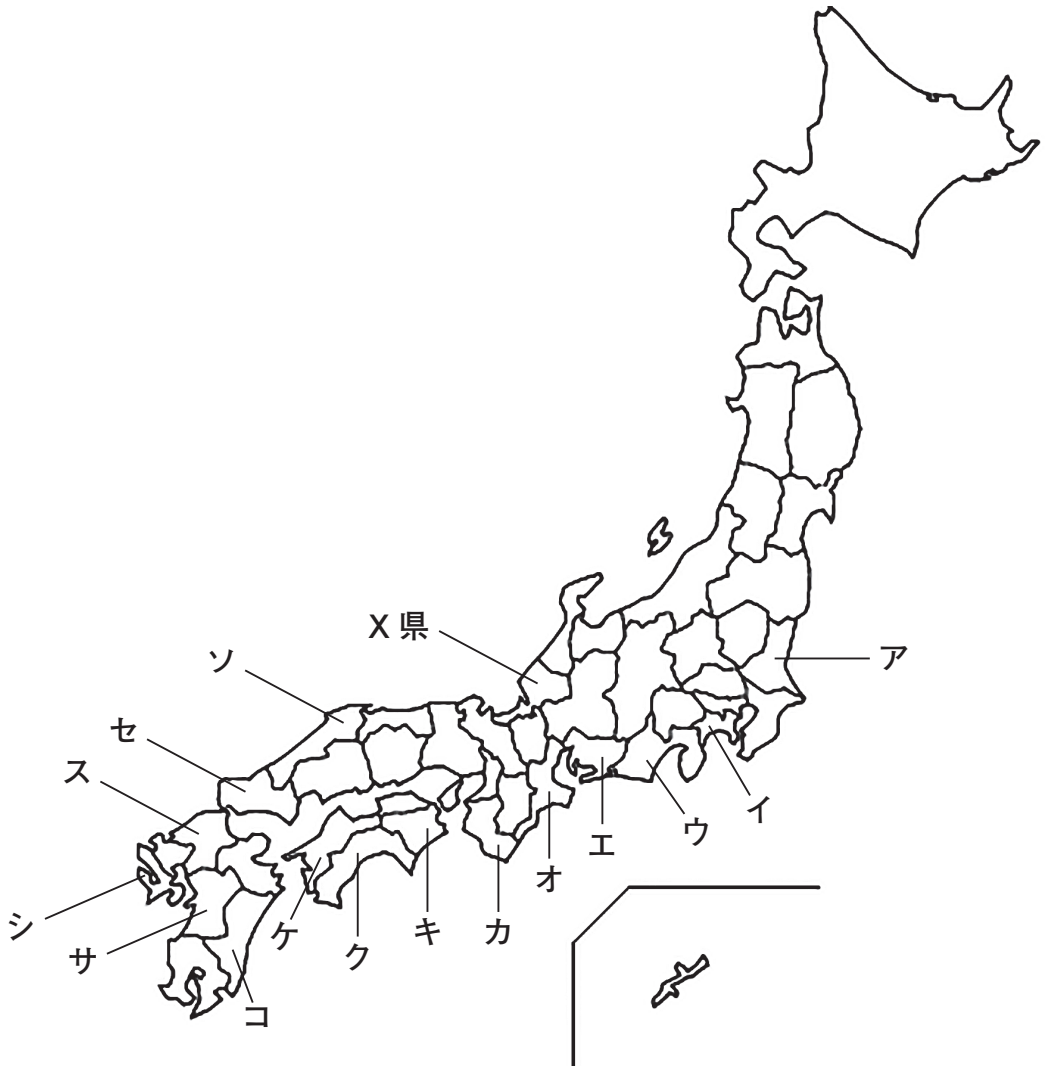
問10 下は果物（日本梨・桃・ぶどう・りんご）の収穫量のグラフです。

桃のグラフを次のア～エから1つ選び、記号で答えなさい。



(農林水産統計資料)

2 次の地図と表を見て、あとの問いに答えなさい。



問1 各都道府県にはさまざまな産業があり、全国有数の生産量を誇るものがあります。下の表は、自動車（二輪を含む）、タオル、キャベツ、みかん、茶それぞれの生産量の1位から3位までの都道府県です。A～Cにあてはまる都道府県を地図のA～ソの中からそれぞれ選び、記号で答えなさい。また、その都道府県名も漢字で答えなさい。

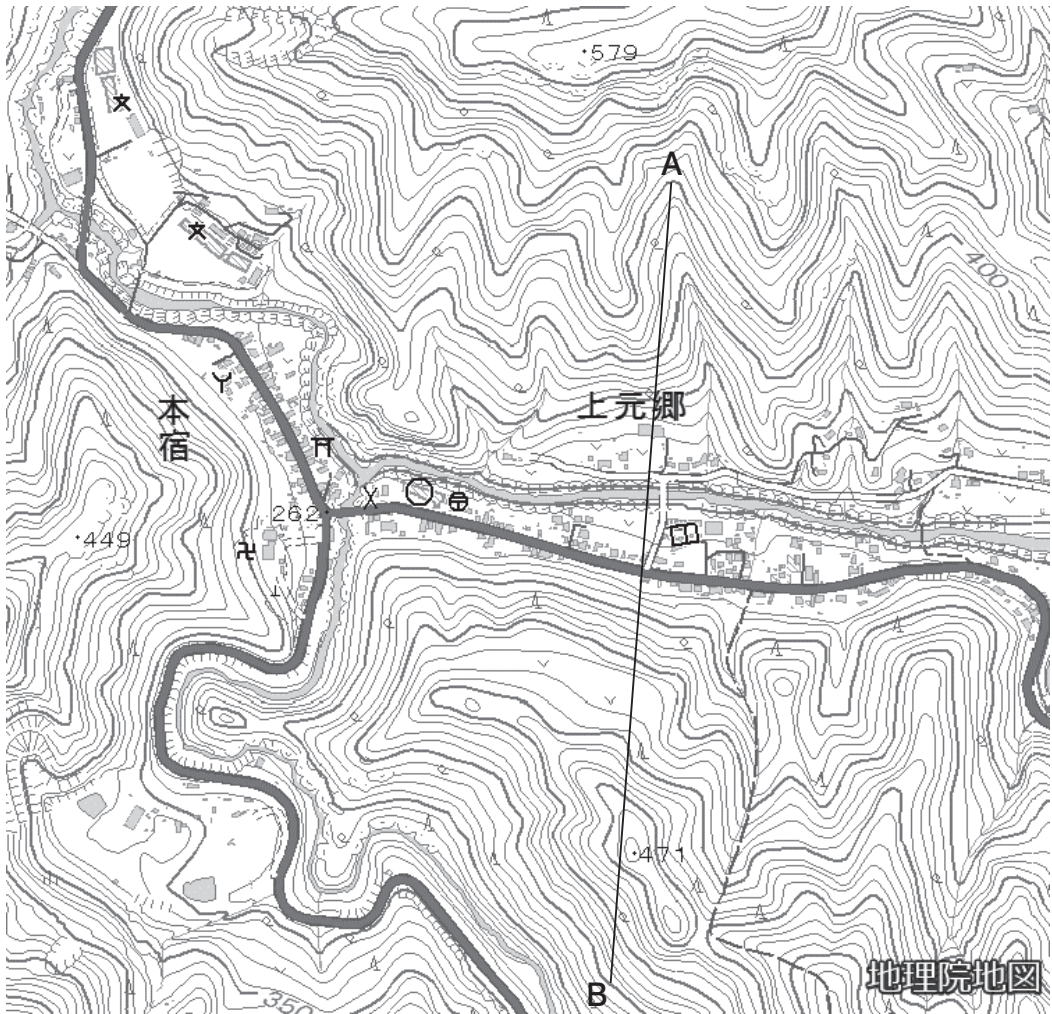
	自動車 (二輪含む)	タオル	キャベツ	みかん	茶
1位	A	B	A	和歌山	C
2位	神奈川	大阪	群馬	B	鹿児島
3位	福岡	福岡	千葉	C	三重

『地理データファイル 2017 年度版』より

問2 地図のX県鯖江市は、ある地場産業が盛んです。鯖江市とその周辺でつくられた製品は、国産製品の9割以上を占めています。この製品を次のア～エの中から1つ選び、記号で答えなさい。

- ア かさ
- イ ハサミ
- ウ 洋食器
- エ 眼鏡枠（フレーム）

3 次の地形図を見て、あとの問いに答えなさい。

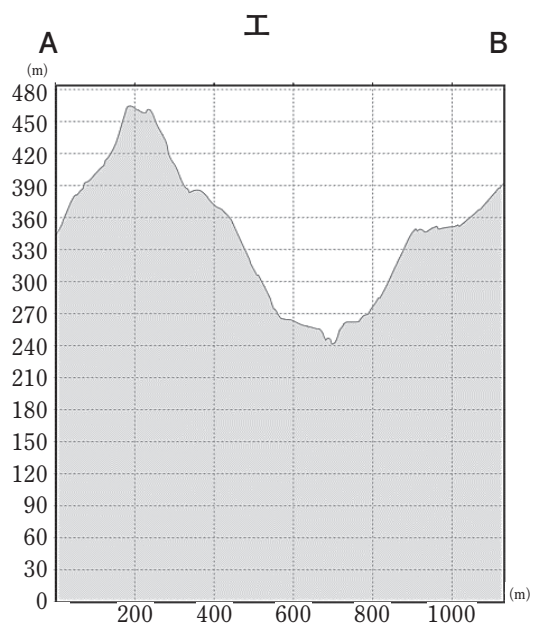
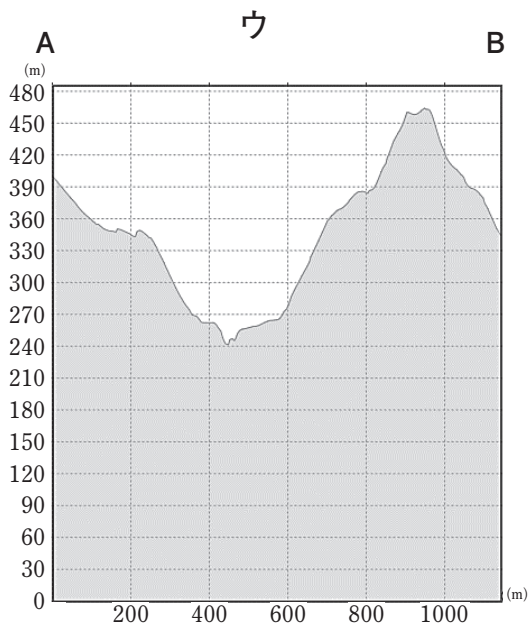
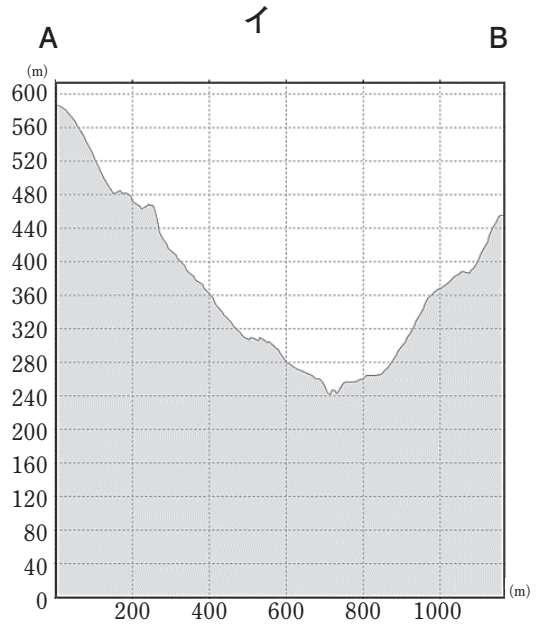
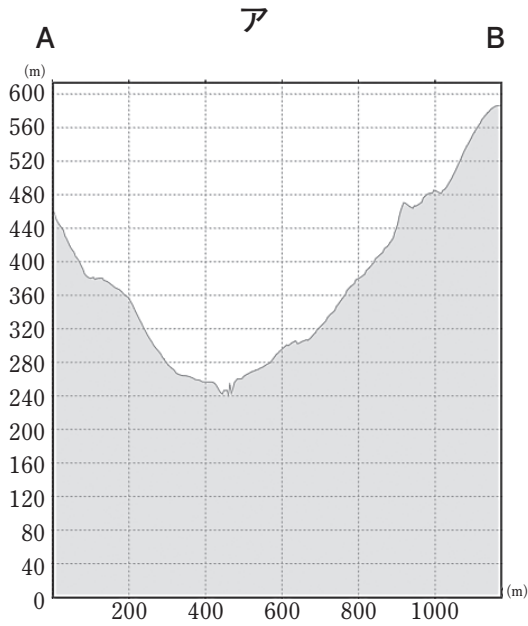


国土地理院地図 電子国土 Web

問1 上の地形図から読み取ることができない施設をア～エの中から1つ選び、記号で答えなさい。

ア 郵便局 イ 高等学校 ウ 寺院 エ 消防署

問2 左の地形図のAからBの断面図を次のア～エの中から1つ選び、
記号で答えなさい。



4

次の文章を読み、あとの問いに答えなさい。

日本の総人口に占める70歳以上の割合が、今年15日時点の推計で前年より0.8ポイント高い20.7%、人数は100万人増の2618万人となり、初めて2割を超えた。1947～49年生まれの「団塊の世代」が昨年より70歳代になったことなどが影響した。17日の「敬老の日」にあわせて総務省が公表した。

65歳以上の高齢者が総人口に占める割合（高齢化率）は28.1%、3557万人で、いずれも過去最高を更新した。高齢化率は前年より0.4ポイント高くなり、高齢者数は44万人増え、比較可能な1950年以降伸び続けている。総人口は少子化などの影響で27万人減の1億2642万人。

男女別の高齢者数は、女性が2012万人（高齢化率31.0%）と初めて2千万人を超えた。男性は1545万人（同25.1%）。

日本の高齢化率は世界で最も高く、2位のイタリア（23.3%）より4.8ポイント高い。国立社会保障・人口問題研究所の推計では、高齢化率は25年に30%、36年は3人に1人が高齢者になる。総務省の労働力調査によると、高齢者の就業率は23.0%で、10年前より3.3ポイント上がり、主要7カ国で最も高い。

（2018年9月17日 朝日新聞）

※高齢化率とは、老年（65歳以上）人口比率と同じ意味である。

問1 左の新聞記事を読み、以下のア～エの文章が記事の内容と合っているときは○、合っていないときは×を解答らんに記入しなさい。

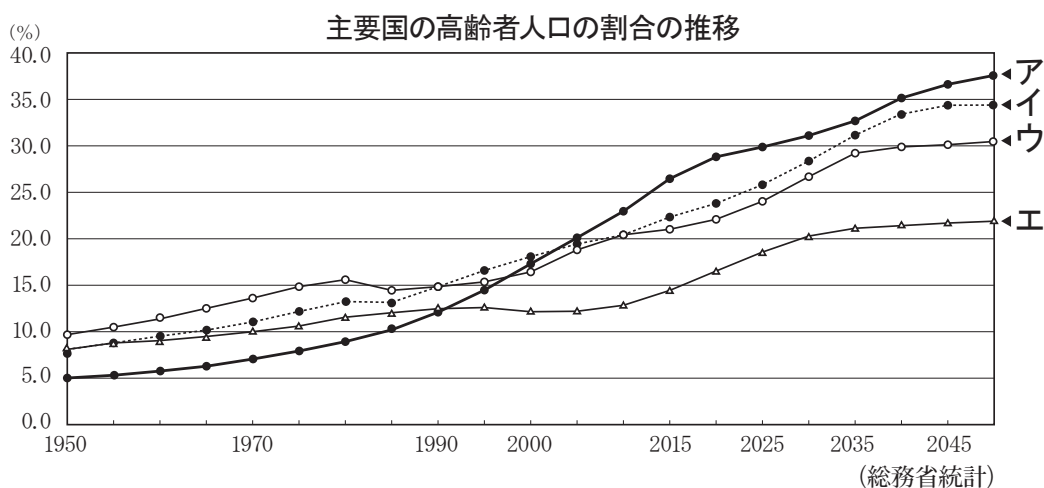
ア 日本の70歳以上の割合は、28.1%となり、過去最高を更新した。

イ 日本の男女別の高齢者数は、女性の方が男性より1000万人以上多い。

ウ 国立社会保障・人口問題研究所の推計では、日本は2036年に3人に1人が高齢者になる。

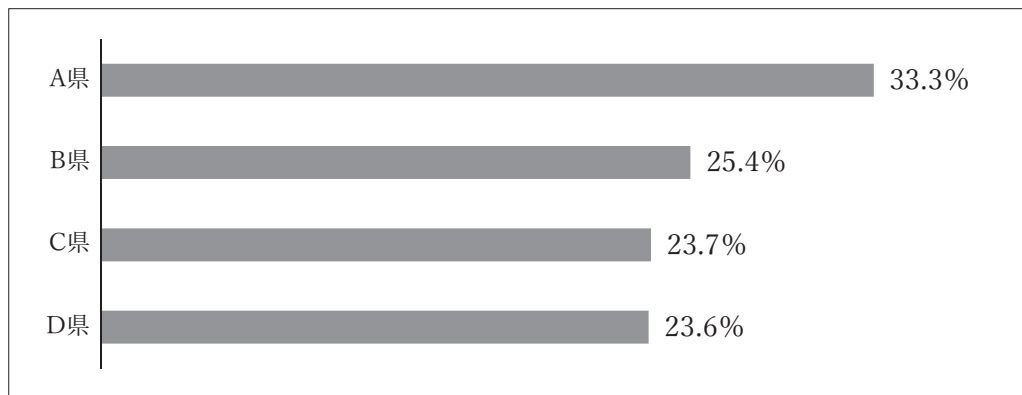
エ 総務省の調査によると、日本の高齢者の就業率は23.0%で、主要7カ国で最も高い。

問2 下の表は主要国の高齢者人口の割合の推移を表しています。表のア～エは、アメリカ、イタリア、ドイツ、日本のいずれかです。日本を^{しめ}示すものを表のア～エの中から1つ選び、記号で答えなさい。



資料：日本の値は、平成27年までは「国勢調査」、32年以降は国立社会保障・人口問題研究所「日本の将来推計人口」
 他国は、World Population Prospects: The 2017 Revision (United Nations)
 注) 日本は、各年10月1日現在、他国は、各年7月1日現在

問3 下の表は、愛知県、秋田県、神奈川県、福岡県の高齢化率を表したものです。表のA県は、日本国内で最も高齢化率が高い県です。A県にあてはまるものを次のア～エの中から1つ選び、記号で答えなさい。



『地理データファイル 2017 年度版』より

ア 愛知県 イ 秋田県 ウ 神奈川県 エ 福岡県

5 次の先生と生徒の会話を読んで、あとの問いに答えなさい。

先生 去年の9月に沖縄県の知事が交代したことを覚えていますか？ 翁長雄志知事が任期中に病気で亡くなったために、①新しい知事を決めることとなり、県知事選挙が行われたのです。

生徒 当選したのは玉城デニーさん、でしたね。他の候補者との意見のちがいは何だったのですか？

先生 大きなちがいは、アメリカ軍の②普天間飛行場を日本に返還する代わりとして、辺野古に新しい基地を建設することに賛成なのか反対なのか、という点でした。玉城さんは反対の立場でした。

生徒 では、その玉城さんを沖縄の人々が知事に選んだ結果、辺野古に基地をつくる話はなくなったのですか？

先生 ところが、辺野古の基地の建設は沖縄県ではなく、日本政府が進めていることなのです。だから…。

生徒 それで、工事のことが引き続きニュースで報じられているのですね。でも、沖縄県民は工事に反対の人を選んだのに、その意見を無視しちゃうのですか？

先生 その疑問を感じている人はたしかに多いです。

生徒 そもそも、なぜ沖縄には基地がたくさんあるのですか？

先生 太平洋戦争中、沖縄では激しい戦闘が行われ、多くの人々が犠牲になりました。アメリカ軍による沖縄の占領統治は1945年6月から始まり、アメリカ軍基地もつくられました。

生徒 そして日本政府は同じ年の8月に連合国に降伏するのですね？

先生 その通りです。そして、③ポツダム宣言にもとづき、連合国軍の指令を受けて、日本政府は戦後の改革を進めたのです。

生徒 その後、1951年には④サンフランシスコで平和条約を結んだのでしょうか？

先生 そうですね。そして連合国による日本の^{せんりょう}占領の時代が終わります。ところが、沖縄や小笠原諸島などは切り離され、引き続き^{しせいけん}施政権をアメリカが持ったのです。そして、そこからまたアメリカ軍の^{こういん}基地建設が強引に進められました。

生徒 でも沖縄がまだ日本に^{もど}戻されていなかったとしても、基地を増やすことに日本の政府は反対しなかったのですか？

先生 平和条約を結んだのと同じ時、「(5) 条約」をアメリカと結びました。それは、アメリカ軍基地を日本に置くことを認める条約です。

生徒 東京都の立川市にもアメリカ軍の基地があったと聞きました。

先生 占領の期間から日本全国あちこちに基地がたくさんありましたが、その後、全国の基地は減りました。ところがまだ日本に^{へんかん}返還されていなかった沖縄にだけ基地が多く残されたのです。

生徒 それで今でも沖縄にだけ基地が多くあるのですね。昔の事情はそうだとしても、沖縄が日本に返還されたのは、もう47年前のことだから、今でもそのままでいいのでしょうか？

先生 そうですね。それに、⑥沖縄には日本の他の地域とはちがう歴史もありました。その沖縄にだけ不公平を押し付けるのは、ヤマト（沖縄以外の日本のこと）の人々の^{みがって}身勝手だということかもしれません。

生徒 でも、どうしたらいいのでしょうか？

先生 最近では、他の都道府県に^{いせつ}基地を移設することを考えるべ

きだという人もいます。

生徒　もしも自分の街まちの近くに基地ができるとすると、それも困ります。

先生　そうですね。でもそれは沖縄の人にとっても同じですね。いまの日本の全員で考えなければならない問題です。アメリカ軍の基地が本当に今までどおり必要なのかもふくめて、しっかり考えなければならないことですね。

問1　下線部①の県知事選挙のときに投票することができたのは何歳以上の沖縄県民ですか。次のア～エから1つ選び、記号で答えなさい。

- | | |
|------------|------------|
| ア　18歳以上の男女 | イ　20歳以上の男女 |
| ウ　25歳以上の男女 | エ　30歳以上の男女 |

問2　下線部②には「アメリカ軍の普天間飛行場を返還する」とあります。なぜ「普天間飛行場」の返還が求められているのでしょうか。その理由として正しくないものを、次のア～エから1つ選び、記号で答えなさい。

- ア　アメリカ兵による少女暴行ぼうこう事件が起こり、基地があることへの不満が強まったから。
- イ　基地の周りに住宅が多くあって、騒音そうおんの被害ひがいが大きいから。
- ウ　ヘリコプターの墜落つらく事故が起こり、今後も事故の危険性があるから。
- エ　アメリカ軍基地の跡地あとちに、自衛隊の飛行場を建設する計画があるから。

問3 下線部③に書かれた、ポツダム宣言にもとづく戦後の改革にあてはまらないものを、次のア～エの中から1つ選び、記号で答えなさい。

- ア 平和主義の考え方を憲法で定め、二度と戦争をしないことを決めた。
- イ 陸軍・海軍を解散させ、その代わりに日本を守るための自衛隊をつくった。
- ウ 農地改革を行い、それまでの小作農民も自分の農地をもてるようにした。
- エ 男女平等が原則になって、女性の参政権が認められるようになった。

問4 文中の下線部④「サンフランシスコ平和条約」などのように外国と条約を結ぶときは、どのように行われますか。以下の説明の空らん（あ）（い）に入る正しい言葉の組み合わせを、下のア～エから1つ選び、記号で答えなさい。

「条約を結ぶのは（あ）であるが、それを（い）が承認することではじめて正式に成立する」

- ア あ：国会 い：内閣
- イ あ：国会 い：裁判所
- ウ あ：内閣 い：国会
- エ あ：内閣 い：裁判所

問5 文中の空らん（ 5 ）にあてはまる語句を漢字6字で答え、条約の名前を完成させなさい。

問6 文中の下線部⑥に関連して、沖縄の歴史についての次の説明ア～エの中から間違いをふくむものを1つ選び、記号で答えなさい。

- ア 室町時代に琉球王国りゅうきゅうができ、中国（明）との貿易で栄えていた。
- イ 江戸時代の初めに薩摩藩さつまに征服せいふくされて支配を受けたが、琉球王国は続いた。
- ウ 徳川将軍がかわるごとに江戸に使節が送られ、薩摩藩とのみ貿易ができた。
- エ 明治時代の初め、新政府によって沖縄県とされ、琉球王国は滅びた。

